

ПРОЕКТ

**Государственная итоговая аттестация по образовательным
программам основного общего образования в форме
основного государственного экзамена (ОГЭ)**

**Демонстрационный вариант
контрольных измерительных материалов для проведения
в 2016 году основного государственного экзамена
по МАТЕМАТИКЕ**

подготовлен Федеральным государственным бюджетным
научным учреждением
«ФЕДЕРАЛЬНЫЙ ИНСТИТУТ ПЕДАГОГИЧЕСКИХ ИЗМЕРЕНИЙ»

Математика. 9 класс

Демонстрационный вариант 2016 г. - 2 / 16

**Демонстрационный вариант
контрольных измерительных материалов для проведения
в 2016 году основного государственного экзамена по
МАТЕМАТИКЕ**

Пояснения к демонстрационному варианту экзаменационной работы

При ознакомлении с демонстрационным вариантом следует иметь в виду, что включённые в него задания не отражают всех элементов содержания, которые будут проверяться с помощью вариантов КИМ в 2016 году. Разделы содержания, на которых базируются контрольные измерительные материалы, определены в спецификации; полный перечень соответствующих элементов содержания и умений, которые могут контролироваться на экзамене 2016 года, приведён в кодификаторах, размещённых на сайте www.fipi.ru.

Демонстрационный вариант предназначен для того, чтобы дать возможность участнику экзамена и широкой общественности составить представление о структуре будущей экзаменационной работы, числе и форме заданий, а также их уровне сложности. Эти сведения дают возможность выработать стратегию подготовки к сдаче экзамена по математике.

Демонстрационный вариант 2016 года**Инструкция по выполнению работы**

Работа состоит из трёх модулей: «Алгебра», «Геометрия», «Реальная математика». Всего в работе 26 заданий. Модуль «Алгебра» содержит 11 заданий: в части 1 — восемь заданий; в части 2 — три задания. Модуль «Геометрия» содержит восемь заданий: в части 1 — пять заданий; в части 2 — три задания. Модуль «Реальная математика» содержит семь заданий: все задания этого модуля — в части 1.

На выполнение экзаменационной работы по математике отводится 3 часа 55 минут (235 минут).

Ответы к заданиям 2, 3, 8, 14 записываются в виде одной цифры, которая соответствует номеру правильного ответа. Эту цифру запишите в поле ответа в тексте работы.

Для остальных заданий части 1 ответом является число или последовательность цифр, которые нужно записать в поле ответа в тексте работы. Если в ответе получена обыкновенная дробь, обратите её в десятичную. В случае записи неверного ответа на задания части 1 зачеркните его и запишите рядом новый.

Решения заданий части 2 и ответы к ним запишите на отдельном листе или бланке. Задания можно выполнять в любом порядке, начиная с любого модуля. Текст задания переписывать не надо, необходимо только указать его номер.

Сначала выполняйте задания части 1. Начать советуем с того модуля, задания которого вызывают у Вас меньше затруднений, затем переходите к другим модулям. Для экономии времени пропускайте задание, которое не удаётся выполнить сразу, и переходите к следующему. Если у Вас останется время, Вы сможете вернуться к пропущенным заданиям.

Все необходимые вычисления, преобразования и т.д. выполняйте в черновике. Записи в черновике не учитываются при оценивании работы. Если задание содержит рисунок, то на нём непосредственно в тексте работы можно выполнять необходимые Вам построения. Рекомендуем внимательно читать условие и проводить проверку полученного ответа.

При выполнении работы Вы можете воспользоваться справочными материалами.

Баллы, полученные за верно выполненные задания, суммируются. Для успешного прохождения итоговой аттестации необходимо набрать в сумме не менее 8 баллов, из них не менее 3 баллов в модуле «Алгебра», не менее 2 баллов в модуле «Геометрия» и не менее 2 баллов в модуле «Реальная математика». За каждое правильно выполненное задание части 1 выставляется 1 балл. В каждом модуле части 2 задания оцениваются в 2 балла.

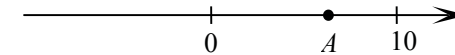
Желаем успеха!

Часть 1**Модуль «Алгебра»**

1 Найдите значение выражения $\frac{1}{4} + 0,07$.

Ответ: _____.

2 На координатной прямой отмечена точка A .



Известно, что она соответствует одному из четырёх указанных ниже чисел. Какому из чисел соответствует точка A ?

- 1) $\frac{181}{16}$ 2) $\sqrt{37}$ 3) 0,6 4) 4

Ответ:

3 Значение какого из выражений является рациональным числом?

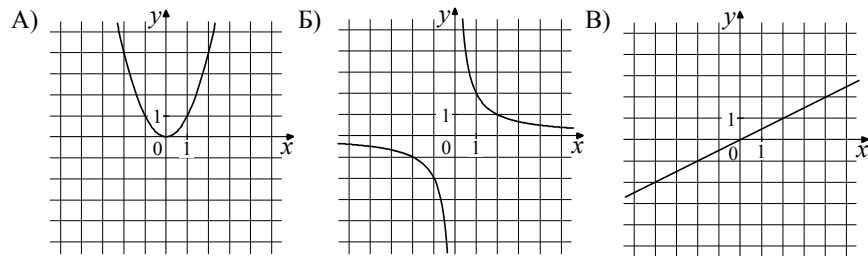
- 1) $\sqrt{6} - 3$ 2) $\sqrt{3} \cdot \sqrt{5}$ 3) $(\sqrt{5})^2$ 4) $(\sqrt{6} - 3)^2$

Ответ:

4 Решите уравнение $7x - 9 = 40$.

Ответ: _____.

5 Установите соответствие между графиками функций и формулами, которые их задают.



- 1) $y = x^2$ 2) $y = \frac{x}{2}$ 3) $y = \frac{2}{x}$

В таблице под каждой буквой, соответствующей графику, впишите номер формулы, которая его задаёт.

Ответ:

А	Б	В

6 В последовательности чисел первое число равно 6, а каждое следующее больше предыдущего на 4. Найдите пятнадцатое число.

Ответ: _____.

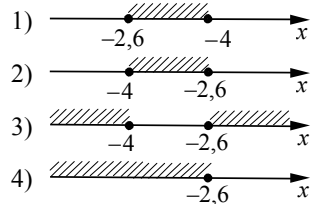
7 Найдите значение выражения $9b + \frac{5a - 9b^2}{b}$ при $a = 9, b = 36$.

Ответ: _____.

8 Решите систему неравенств

$$\begin{cases} x + 2,6 \leq 0, \\ x + 5 \geq 1. \end{cases}$$

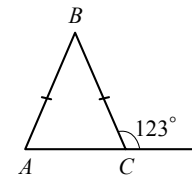
На каком рисунке изображено множество её решений?



Ответ:

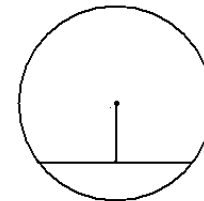
Модуль «Геометрия»

9 В равнобедренном треугольнике ABC с основанием AC внешний угол при вершине C равен 123° . Найдите величину угла BAC . Ответ дайте в градусах.



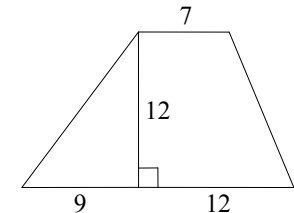
Ответ: _____.

10 Найдите длину хорды окружности радиусом 13 см, если расстояние от центра окружности до хорды равно 5 см. Ответ дайте в см.



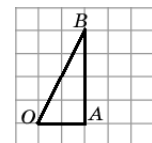
Ответ: _____.

11 Найдите площадь трапеции, изображённой на рисунке.



Ответ: _____.

12 Найдите тангенс угла AOB треугольника, изображённого на рисунке.



Ответ: _____.

13 Укажите номера **верных** утверждений.

- 1) Через точку, не лежащую на данной прямой, можно провести прямую, параллельную этой прямой.
- 2) Треугольник со сторонами 1, 2, 4 существует.
- 3) Если в ромбе один из углов равен 90° , то такой ромб — квадрат.
- 4) В любом параллелограмме диагонали равны.

Ответ: _____.

Модуль «Реальная математика»

14 В таблице приведены нормативы по бегу на 30 метров для учащихся 9-х классов.

Отметка	Мальчики			Девочки		
	«отл.»	«хор.»	«удовл.»	«отл.»	«хор.»	«удовл.»
Время, секунды	4,6	4,9	5,3	5,0	5,5	5,9

Какую отметку получит девочка, пробежавшая эту дистанцию за 5,36 секунды?

- 1) Отлично
- 2) Хорошо
- 3) Удовлетворительно
- 4) Норматив не выполнен

Ответ:

15 На графике изображена зависимость атмосферного давления (в миллиметрах ртутного столба) от высоты над уровнем моря (в километрах). На какой высоте (в километрах) давление составит 540 миллиметров ртутного столба?

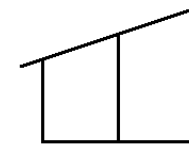


Ответ: _____.

16 Стоимость проезда в пригородном электропоезде составляет 198 рублей. Школьникам предоставляется скидка 50%. Сколько рублей стоит проезд группы из 4 взрослых и 12 школьников?

Ответ: _____.

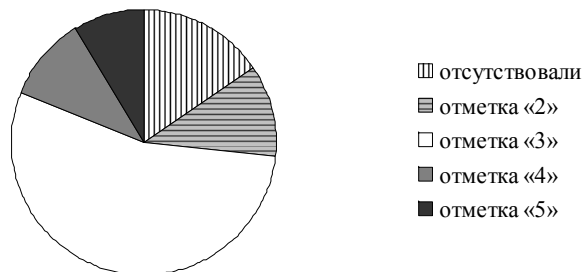
17 Наклонная балка поддерживается тремя столбами, стоящими вертикально на равном расстоянии друг от друга. Длины двух меньших столбов — 60 см и 90 см. Найдите длину большего столба. Ответ дайте в см.



Ответ: _____.

- 18 Завуч школы подвёл итоги контрольной работы по математике в 9-х классах. Результаты представлены на круговой диаграмме.

Результаты контрольной работы по математике.
9 класс



Какие из утверждений относительно результатов контрольной работы **верны**, если всего в школе 120 девятиклассников?

В ответе укажите номера верных утверждений.

- 1) Более половины учащихся получили отметку «3».
- 2) Около половины учащихся отсутствовали на контрольной работе или получили отметку «2».
- 3) Отметку «4» или «5» получила примерно шестая часть учащихся.
- 4) Отметку «3», «4» или «5» получили более 100 учащихся.

Ответ: _____.

- 19 На тарелке лежат пирожки, одинаковые на вид: 4 с мясом, 8 с капустой и 3 с яблоками. Петя наугад выбирает один пирожок. Найдите вероятность того, что пирожок окажется с яблоками.

Ответ: _____.

- 20 Период колебания математического маятника T (в секундах) приближенно можно вычислить по формуле $T = 2\sqrt{l}$, где l — длина нити (в метрах). Пользуясь этой формулой, найдите длину нити маятника (в метрах), период колебаний которого составляет 3 секунды.

Ответ: _____.

Часть 2

При выполнении заданий 21–26 используйте отдельный лист. Сначала укажите номер задания, а затем запишите его решение и ответ. Пишите чётко и разборчиво.

Модуль «Алгебра»

- 21 Сократите дробь $\frac{18^{n+3}}{3^{2n+5} \cdot 2^{n-2}}$.

- 22 Рыболов в 5 часов утра на моторной лодке отправился от пристани против течения реки, через некоторое время бросил якорь, 2 часа ловил рыбу и вернулся обратно в 10 часов утра того же дня. На какое расстояние от пристани он отплыл, если скорость течения реки равна 2 км/ч, а собственная скорость лодки 6 км/ч?

- 23 Постройте график функции $y = \frac{x^4 - 13x^2 + 36}{(x-3)(x+2)}$ и определите, при каких значениях c прямая $y = c$ имеет с графиком ровно одну общую точку.

Модуль «Геометрия»

- 24 В прямоугольном треугольнике ABC с прямым углом C известны катеты: $AC = 6$, $BC = 8$. Найдите медиану CK этого треугольника.

- 25 В параллелограмме $ABCD$ точка E — середина стороны AB . Известно, что $EC = ED$. Докажите, что данный параллелограмм — прямоугольник.

- 26 Основание AC равнобедренного треугольника ABC равно 12. Окружность радиуса 8 с центром вне этого треугольника касается продолжений боковых сторон треугольника и касается основания AC . Найдите радиус окружности, вписанной в треугольник ABC .

Система оценивания экзаменационной работы по математике

За правильный ответ на задания 1–20 ставится 1 балл.

Ответы к заданиям части 1

Номер задания	Правильный ответ
1	0,32
2	2
3	3
4	7
5	132
6	62
7	1,25
8	2
9	57
10	24
11	168
12	2
13	13; 31
14	2
15	2,5
16	1980
17	120
18	13; 31
19	0,2
20	2,25

Решения и критерии оценивания заданий части 2
Модуль «Алгебра»

21

Сократите дробь $\frac{18^{n+3}}{3^{2n+5} \cdot 2^{n-2}}$.

Решение.

$$\frac{18^{n+3}}{3^{2n+5} \cdot 2^{n-2}} = \frac{(9 \cdot 2)^{n+3}}{3^{2n+5} \cdot 2^{n-2}} = \frac{3^{2n+6} \cdot 2^{n+3}}{3^{2n+5} \cdot 2^{n-2}} = 3^{2n+6-(2n+5)} \cdot 2^{n+3-(n-2)} = 3 \cdot 2^5 = 96.$$

Ответ: 96.

Баллы	Критерии оценки выполнения задания
2	Правильно выполнены преобразования, получен верный ответ
1	Решение доведено до конца, но допущена ошибка вычислительного характера или описка, с её учётом дальнейшие шаги выполнены верно
0	Другие случаи, не соответствующие указанным выше критериям
2	Максимальный балл

22

Рыболов в 5 часов утра на моторной лодке отправился от пристани против течения реки, через некоторое время бросил якорь, 2 часа ловил рыбу и вернулся обратно в 10 часов утра того же дня. На какое расстояние от пристани он отплыл, если скорость реки равна 2 км/ч, а собственная скорость лодки 6 км/ч?

Решение.

Пусть искомое расстояние равно x км. Скорость лодки при движении против течения равна 4 км/ч, при движении по течению равна 8 км/ч. Время, за которое лодка доплывёт от места отправления до места назначения и обратно, равно $\left(\frac{x}{4} + \frac{x}{8}\right)$ часа. Из условия задачи следует, что это время равно

$$3 \text{ часам. Составим уравнение: } \frac{x}{4} + \frac{x}{8} = 3.$$

Решив уравнение, получим $x = 8$.

Ответ: 8 км.

Баллы	Критерии оценки выполнения задания
2	Правильно составлено уравнение, получен верный ответ
1	Правильно составлено уравнение, но при его решении допущена вычислительная ошибка, с её учётом решение доведено до ответа
0	Другие случаи, не соответствующие указанным критериям
2	Максимальный балл

23

Постройте график функции $y = \frac{x^4 - 13x^2 + 36}{(x-3)(x+2)}$ и определите, при каких значениях c прямая $y = c$ имеет с графиком ровно одну общую точку.

Решение. Разложим числитель дроби на множители:

$$x^4 - 13x^2 + 36 = (x^2 - 4)(x^2 - 9) = (x-2)(x+2)(x-3)(x+3)$$

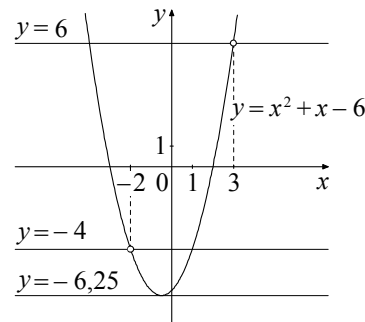
При $x \neq -2$ и $x \neq 3$ функция принимает вид:

$$y = (x-2)(x+3) = x^2 + x - 6,$$

её график — парабола, из которой выколоты точки $(-2; -4)$ и $(3; 6)$.

Прямая $y = c$ имеет с графиком ровно одну общую точку либо тогда, когда проходит через вершину параболы, либо тогда, когда пересекает параболу в двух точках, одна из которых — выколотая. Вершина параболы имеет координаты $(-0,5; -6,25)$.

Поэтому $c = -6,25$, $c = -4$ или $c = 6$.



Баллы	Критерии оценивания выполнения задания
2	График построен правильно, верно указаны все значения c , при которых прямая $y = c$ имеет с графиком только одну общую точку
1	График построен правильно, указаны не все верные значения c
0	Другие случаи, не соответствующие указанным выше критериям
2	Максимальный балл

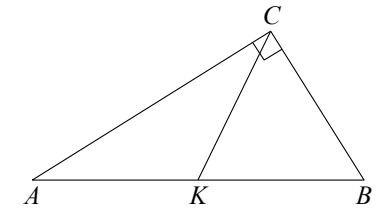
Модуль «Геометрия»

24

В прямоугольном треугольнике ABC с прямым углом C известны катеты: $AC = 6$, $BC = 8$. Найдите медиану CK этого треугольника.

Решение.

$$CK = \frac{1}{2} AB = \frac{1}{2} \sqrt{AC^2 + BC^2} = \frac{1}{2} \sqrt{36 + 64} = 5.$$



Ответ: 5.

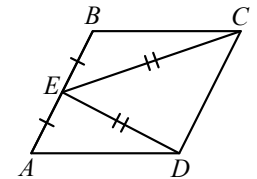
Баллы	Критерии оценки выполнения задания
2	Получен верный обоснованный ответ
1	При верных рассуждениях допущена вычислительная ошибка, возможно приведшая к неверному ответу
0	Другие случаи, не соответствующие указанным критериям
2	Максимальный балл

25

В параллелограмме $ABCD$ точка E — середина стороны AB . Известно, что $EC = ED$. Докажите, что данный параллелограмм — прямоугольник.

Доказательство. Треугольники BEC и AED равны по трём сторонам.

Значит, углы CBE и DAE равны. Так как их сумма равна 180° , то углы равны 90° . Такой параллелограмм — прямоугольник.



Баллы	Критерии оценки выполнения задания
2	Доказательство верное, все шаги обоснованы
1	Доказательство в целом верное, но содержит неточности
0	Другие случаи, не соответствующие указанным критериям
2	Максимальный балл

26 Основание AC равнобедренного треугольника ABC равно 12. Окружность радиуса 8 с центром вне этого треугольника касается продолжений боковых сторон треугольника и касается основания AC . Найдите радиус окружности, вписанной в треугольник ABC .

Решение.

Пусть O — центр данной окружности, а Q — центр окружности, вписанной в треугольник ABC .

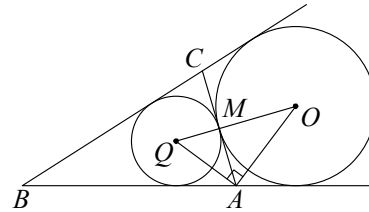
Точка касания M окружностей делит AC пополам.

Лучи AQ и AO — биссектрисы смежных углов, значит, угол OAQ прямой. Из

прямоугольного треугольника OAQ получаем: $AM^2 = MQ \cdot MO$. Следовательно,

$$QM = \frac{AM^2}{OM} = \frac{9}{2} = 4,5.$$

Ответ: 4,5.



Баллы	Критерии оценки выполнения задания
2	Ход решения верный, все его шаги выполнены правильно, получен верный ответ
1	Ход решения верный, чертёж соответствует условию задачи, но пропущены существенные объяснения или допущена вычислительная ошибка
0	Другие случаи, не соответствующие указанным критериям
2	Максимальный балл

В соответствии с Порядком проведения государственной итоговой аттестации по образовательным программам основного общего образования (приказ Минобрнауки России от 25.12.2013 № 1394 зарегистрирован Минюстом России 03.02.2014 № 31206)

«48. Экзаменационные работы проверяются двумя экспертами. По результатам проверки эксперты независимо друг от друга выставляют баллы за каждый ответ на задания экзаменационной работы... В случае существенного расхождения в баллах, выставленных двумя экспертами, назначается третья проверка. Существенное расхождение в баллах определено в критериях оценивания по соответствующему учебному предмету.

Третий эксперт назначается председателем предметной комиссии из числа экспертов, ранее не проверявших экзаменационную работу.

Третьему эксперту предоставляется информация о баллах, выставленных экспертами, ранее проверявшими экзаменационную работу обучающегося. Баллы, выставленные третьим экспертом, являются окончательными».

1. Работа направляется на третью проверку, если расхождение в баллах, выставленных двумя экспертами за выполнение любого из заданий, составляет 2 балла.

В этом случае третий эксперт проверяет только то задание, которое было оценено двумя экспертами со столь существенным расхождением.

2. Работа участника ГИА-9 направляется на третью проверку при наличии расхождений в двух и более заданиях.

В этом случае третий эксперт перепроверяет все задания с развёрнутым ответом 21–26.

Проект

**Государственная итоговая аттестация по образовательным
программам основного общего образования в форме
основного государственного экзамена (ОГЭ)**

**Кодификатор
требований к уровню подготовки обучающихся для
проведения основного государственного экзамена по
МАТЕМАТИКЕ**

подготовлен Федеральным государственным бюджетным
научным учреждением
«ФЕДЕРАЛЬНЫЙ ИНСТИТУТ ПЕДАГОГИЧЕСКИХ ИЗМЕРЕНИЙ»

**Кодификатор требований к уровню подготовки обучающихся для
проведения основного государственного экзамена по МАТЕМАТИКЕ**

Кодификатор требований к уровню подготовки обучающихся для проведения основного государственного экзамена по математике (далее – кодификатор) является одним из документов, определяющих структуру и содержание контрольных измерительных материалов (далее – КИМ). Кодификатор является систематизированным перечнем требований к уровню подготовки выпускников и проверяемых элементов содержания, в котором каждому объекту соответствует определённый код.

Кодификатор требований к уровню подготовки по математике составлен на основе Обязательного минимума содержания основных образовательных программ и Требований к уровню подготовки выпускников основной школы (приказ Минобрнауки России от 05.03.2004 № 1089 «Об утверждении федерального компонента государственных стандартов начального общего, основного общего и среднего (полного) общего образования»).

В первом столбце таблицы указаны коды разделов, на которые разбиты требования к уровню подготовки по математике. Во втором столбце указан код умения, для проверки которого создаются экзаменационные задания. В третьем столбце сформулированы требования к уровню подготовки выпускников.

Код раздела	Код контролируемого умения	Требования (умения), проверяемые заданиями экзаменационной работы
1		Уметь выполнять вычисления и преобразования
	1.1	Выполнять, сочетая устные и письменные приёмы, арифметические действия с рациональными числами, сравнивать действительные числа; находить в несложных случаях значения степеней с целыми показателями и корней; вычислять значения числовых выражений; переходить от одной формы записи чисел к другой
	1.2	Округлять целые числа и десятичные дроби, находить приближения чисел с недостатком и с избытком, выполнять прикидку результата вычислений, оценку числовых выражений
	1.3	Решать текстовые задачи, включая задачи, связанные с отношением, пропорциональностью величин, дробями, процентами
	1.4	Изображать числа точками на координатной прямой
2		Уметь выполнять преобразования алгебраических выражений
	2.1	Составлять буквенные выражения и формулы по условиям задач, находить значения буквенных выражений, осуществляя необходимые подстановки и преобразования
	2.2	Выполнять основные действия со степенями с целыми показателями, с многочленами и алгебраическими дробями
	2.3	Выполнять разложение многочленов на множители
	2.4	Выполнять тождественные преобразования рациональных выражений
2.5	Применять свойства арифметических квадратных корней для преобразования числовых выражений, содержащих квадратные корни	

3		Уметь решать уравнения, неравенства и их системы
	3.1	Решать линейные, квадратные уравнения и рациональные уравнения, сводящиеся к ним, системы двух линейных уравнений и несложные нелинейные системы
	3.2	Решать линейные и квадратные неравенства с одной переменной и их системы
	3.3	Применять графические представления при решении уравнений, систем, неравенств
3.4	Решать текстовые задачи алгебраическим методом, интерпретировать полученный результат, проводить отбор решений исходя из формулировки задачи	
4		Уметь строить и читать графики функций
	4.1	Определять координаты точки плоскости, строить точки с заданными координатами
	4.2	Определять значение функции по значению аргумента при различных способах задания функции, решать обратную задачу
	4.3	Определять свойства функции по её графику (промежутки возрастания, убывания, промежутки знакопостоянства, наибольшее и наименьшее значения)
	4.4	Строить графики изученных функций, описывать их свойства
	4.5	Решать элементарные задачи, связанные с числовыми последовательностями
	4.6	Распознавать арифметические и геометрические прогрессии; решать задачи с применением формулы общего члена и суммы нескольких первых членов прогрессий
5		Уметь выполнять действия с геометрическими фигурами, координатами и векторами
	5.1	Решать планиметрические задачи на нахождение геометрических величин (длин, углов, площадей)
	5.2	Распознавать геометрические фигуры на плоскости, различать их взаимное расположение, изображать геометрические фигуры; выполнять чертежи по условию задачи
	5.3	Определять координаты точки плоскости; проводить операции над векторами, вычислять длину и координаты вектора, угол между векторами
6		Уметь работать со статистической информацией, находить частоту и вероятность случайного события
	6.1	Извлекать статистическую информацию, представленную в таблицах, на диаграммах, графиках
	6.2	Решать комбинаторные задачи путем организованного перебора возможных вариантов, а также с использованием правила умножения
	6.3	Вычислять средние значения результатов измерений
	6.4	Находить частоту события, используя собственные наблюдения и готовые статистические данные
	6.5	Находить вероятности случайных событий в простейших случаях
7		Уметь использовать приобретенные знания и умения в практической деятельности и повседневной жизни, уметь строить и исследовать простейшие математические модели
	7.1	Решать несложные практические расчётные задачи; решать задачи, связанные с отношением, пропорциональностью величин, дробями,

		процентами; пользоваться оценкой и прикидкой при практических расчётах; интерпретировать результаты решения задач с учётом ограничений, связанных с реальными свойствами рассматриваемых объектов
	7.2	Пользоваться основными единицами длины, массы, времени, скорости, площади, объёма; выражать более крупные единицы через более мелкие и наоборот. Осуществлять практические расчёты по формулам, составлять несложные формулы, выражающие зависимости между величинами
	7.3	Моделировать реальные ситуации на языке алгебры, составлять выражения, уравнения и неравенства по условию задачи; исследовать построенные модели с использованием аппарата алгебры
	7.4	Описывать с помощью функций различные реальные зависимости между величинами; интерпретировать графики реальных зависимостей
	7.5	Описывать реальные ситуации на языке геометрии, исследовать построенные модели с использованием геометрических понятий и теорем, решать практические задачи, связанные с нахождением геометрических величин
	7.6	Анализировать реальные числовые данные, представленные в таблицах, на диаграммах, графиках
	7.7	Решать практические задачи, требующие систематического перебора вариантов; сравнивать шансы наступления случайных событий, оценивать вероятности случайного события, сопоставлять и исследовать модели реальной ситуацией с использованием аппарата вероятности и статистики
	7.8	Проводить доказательные рассуждения при решении задач, оценивать логическую правильность рассуждений, распознавать ошибочные заключения

**Государственная итоговая аттестация по образовательным
программам основного общего образования в форме
основного государственного экзамена (ОГЭ)**

**Кодификатор
элементов содержания для проведения основного
государственного экзамена по МАТЕМАТИКЕ**

подготовлен Федеральным государственным бюджетным
научным учреждением
«ФЕДЕРАЛЬНЫЙ ИНСТИТУТ ПЕДАГОГИЧЕСКИХ ИЗМЕРЕНИЙ»

Кодификатор элементов содержания для проведения основного государственного экзамена по МАТЕМАТИКЕ

Кодификатор элементов содержания для проведения основного государственного экзамена по математике (далее – кодификатор) является одним из документов, определяющих структуру и содержание контрольных измерительных материалов (далее – КИМ). Кодификатор является систематизированным перечнем требований к уровню подготовки выпускников и проверяемых элементов содержания, в котором каждому объекту соответствует определённый код.

Кодификатор элементов содержания по математике составлен на основе Обязательного минимума содержания основных образовательных программ и Требований к уровню подготовки выпускников основной школы (приказ Минобрнауки России от 05.03.2004 № 1089 «Об утверждении федерального компонента государственных стандартов начального общего, основного общего и среднего (полного) общего образования»).

В первом столбце таблицы указаны коды разделов и тем. Во втором столбце указан код элемента содержания, для которого создаются проверочные задания.

Код раздела	Код контролируемого элемента	Элементы содержания, проверяемые заданиями экзаменационной работы
1		Числа и вычисления
<i>1.1</i>		<i>Натуральные числа</i>
	1.1.1	Десятичная система счисления. Римская нумерация
	1.1.2	Арифметические действия над натуральными числами
	1.1.3	Степень с натуральным показателем
	1.1.4	Делимость натуральных чисел. Простые и составные числа, разложение натурального числа на простые множители
	1.1.5	Признаки делимости на 2, 3, 5, 9, 10
	1.1.6	Наибольший общий делитель и наименьшее общее кратное
	1.1.7	Деление с остатком
<i>1.2</i>		<i>Дроби</i>
	1.2.1	Обыкновенная дробь, основное свойство дроби. Сравнение дробей
	1.2.2	Арифметические действия с обыкновенными дробями
	1.2.3	Нахождение части от целого и целого по его части
	1.2.4	Десятичная дробь, сравнение десятичных дробей
	1.2.5	Арифметические действия с десятичными дробями
	1.2.6	Представление десятичной дроби в виде обыкновенной дроби и обыкновенной в виде десятичной
<i>1.3</i>		<i>Рациональные числа</i>
	1.3.1	Целые числа
	1.3.2	Модуль (абсолютная величина) числа
	1.3.3	Сравнение рациональных чисел
	1.3.4	Арифметические действия с рациональными числами
	1.3.5	Степень с целым показателем
	1.3.6	Числовые выражения, порядок действий в них, использование скобок. Законы арифметических действий
<i>1.4</i>		<i>Действительные числа</i>
	1.4.1	Квадратный корень из числа
	1.4.2	Корень третьей степени
	1.4.3	Нахождение приближенного значения корня

	1.4.4	Запись корней с помощью степени с дробным показателем
	1.4.5	Понятие об иррациональном числе. Десятичные приближения иррациональных чисел. Действительные числа как бесконечные десятичные дроби
	1.4.6	Сравнение действительных чисел
1.5		<i>Измерения, приближения, оценки</i>
	1.5.1	Единицы измерения длины, площади, объема, массы, времени, скорости
	1.5.2	Размеры объектов окружающего мира (от элементарных частиц до Вселенной), длительность процессов в окружающем мире
	1.5.3	Представление зависимости между величинами в виде формул
	1.5.4	Проценты. Нахождение процента от величины и величины по её проценту
	1.5.5	Отношение, выражение отношения в процентах
	1.5.6	Пропорция. Пропорциональная и обратно пропорциональная зависимости
	1.5.7	Округление чисел. Прикидка и оценка результатов вычислений. Выделение множителя – степени десяти в записи числа
2		Алгебраические выражения
2.1		<i>Буквенные выражения (выражения с переменными)</i>
	2.1.1	Буквенные выражения. Числовое значение буквенного выражения
	2.1.2	Допустимые значения переменных, входящих в алгебраические выражения
	2.1.3	Подстановка выражений вместо переменных
	2.1.4	Равенство буквенных выражений, тождество. Преобразования выражений
2.2	2.2.1	Свойства степени с целым показателем
2.3		<i>Многочлены</i>
	2.3.1	Многочлен. Сложение, вычитание, умножение многочленов
	2.3.2	Формулы сокращенного умножения: квадрат суммы и квадрат разности; формула разности квадратов
	2.3.3	Разложение многочлена на множители
	2.3.4	Квадратный трехчлен. Теорема Виета. Разложение квадратного трехчлена на линейные множители
	2.3.5	Степень и корень многочлена с одной переменной
2.4		<i>Алгебраическая дробь</i>
	2.4.1	Алгебраическая дробь. Сокращение дробей
	2.4.2	Действия с алгебраическими дробями
	2.4.3	Рациональные выражения и их преобразования
2.5	2.5.1	Свойства квадратных корней и их применение в вычислениях
3		Уравнения и неравенства
3.1		<i>Уравнения</i>
	3.1.1	Уравнение с одной переменной, корень уравнения
	3.1.2	Линейное уравнение
	3.1.3	Квадратное уравнение, формула корней квадратного уравнения
	3.1.4	Решение рациональных уравнений
	3.1.5	Примеры решения уравнений высших степеней. Решение уравнений методом замены переменной. Решение уравнений методом разложения на множители

	3.1.6	Уравнение с двумя переменными; решение уравнения с двумя переменными
	3.1.7	Система уравнений; решение системы
	3.1.8	Система двух линейных уравнений с двумя переменными; решение подстановкой и алгебраическим сложением
	3.1.9	Уравнение с несколькими переменными
	3.1.10	Решение простейших нелинейных систем
3.2		<i>Неравенства</i>
	3.2.1	Числовые неравенства и их свойства
	3.2.2	Неравенство с одной переменной. Решение неравенства
	3.2.3	Линейные неравенства с одной переменной
	3.2.4	Системы линейных неравенств
	3.2.5	Квадратные неравенства
3.3		<i>Текстовые задачи</i>
	3.3.1	Решение текстовых задач арифметическим способом
	3.3.2	Решение текстовых задач алгебраическим способом
4		Числовые последовательности
4.1	4.1.1	Понятие последовательности
4.2		<i>Арифметическая и геометрическая прогрессии</i>
	4.2.1	Арифметическая прогрессия. Формула общего члена арифметической прогрессии
	4.2.2	Формула суммы первых нескольких членов арифметической прогрессии
	4.2.3	Геометрическая прогрессия. Формула общего члена геометрической прогрессии
	4.2.4	Формула суммы первых нескольких членов геометрической прогрессии
	4.2.5	Сложные проценты
5		Функции
5.1		<i>Числовые функции</i>
	5.1.1	Понятие функции. Область определения функции. Способы задания функции
	5.1.2	График функции, возрастание и убывание функции, наибольшее и наименьшее значения функции, нули функции, промежутки знакопостоянства, чтение графиков функций
	5.1.3	Примеры графических зависимостей, отражающих реальные процессы
	5.1.4	Функция, описывающая прямую пропорциональную зависимость, её график
	5.1.5	Линейная функция, её график, геометрический смысл коэффициентов
	5.1.6	Функция, описывающая обратно пропорциональную зависимость, её график. Гипербола
	5.1.7	Квадратичная функция, её график. Парабола. Координаты вершины параболы, ось симметрии
	5.1.8	График функции $y = \sqrt{x}$
	5.1.9	График функции $y = \sqrt[3]{x}$
	5.1.10	График функции $y = x $
	5.1.11	Использование графиков функций для решения уравнений и систем

6		Координаты на прямой и плоскости
6.1		<i>Координатная прямая</i>
	6.1.1	Изображение чисел точками координатной прямой
	6.1.2	Геометрический смысл модуля
	6.1.3	Числовые промежутки: интервал, отрезок, луч
6.2		<i>Декартовы координаты на плоскости</i>
	6.2.1	Декартовы координаты на плоскости; координаты точки
	6.2.2	Координаты середины отрезка
	6.2.3	Формула расстояния между двумя точками плоскости
	6.2.4	Уравнение прямой, угловой коэффициент прямой, условие параллельности прямых
	6.2.5	Уравнение окружности
	6.2.6	Графическая интерпретация уравнений с двумя переменными и их систем
	6.2.7	Графическая интерпретация неравенств с двумя переменными и их систем
7		Геометрия
7.1		<i>Геометрические фигуры и их свойства. Измерение геометрических величин</i>
	7.1.1	Начальные понятия геометрии
	7.1.2	Угол. Прямой угол. Острые и тупые углы. Вертикальные и смежные углы. Биссектриса угла и её свойства
	7.1.3	Прямая. Параллельность и перпендикулярность прямых
	7.1.4	Отрезок. Свойство серединного перпендикуляра к отрезку. Перпендикуляр и наклонная к прямой
	7.1.5	Понятие о геометрическом месте точек
	7.1.6	Преобразования плоскости. Движения. Симметрия
7.2		<i>Треугольник</i>
	7.2.1	Высота, медиана, биссектриса, средняя линия треугольника; точки пересечения серединных перпендикуляров, биссектрис, медиан, высот или их продолжений
	7.2.2	Равнобедренный и равносторонний треугольники. Свойства и признаки равнобедренного треугольника
	7.2.3	Прямоугольный треугольник. Теорема Пифагора
	7.2.4	Признаки равенства треугольников
	7.2.5	Неравенство треугольника
	7.2.6	Сумма углов треугольника. Внешние углы треугольника
	7.2.7	Зависимость между величинами сторон и углов треугольника
	7.2.8	Теорема Фалеса
	7.2.9	Подобие треугольников, коэффициент подобия. Признаки подобия треугольников
	7.2.10	Синус, косинус, тангенс острого угла прямоугольного треугольника и углов от 0° до 180°
	7.2.11	Решение прямоугольных треугольников. Основное тригонометрическое тождество. Теорема косинусов и теорема синусов
7.3		<i>Многоугольники</i>
	7.3.1	Параллелограмм, его свойства и признаки
	7.3.2	Прямоугольник, квадрат, ромб, их свойства и признаки
	7.3.3	Трапеция, средняя линия трапеции; равнобедренная трапеция
	7.3.4	Сумма углов выпуклого многоугольника
	7.3.5	Правильные многоугольники

7.4		<i>Окружность и круг</i>
	7.4.1	Центральный, вписанный угол; величина вписанного угла
	7.4.2	Взаимное расположение прямой и окружности, двух окружностей
	7.4.3	Касательная и секущая к окружности; равенство отрезков касательных, проведённых из одной точки
	7.4.4	Окружность, вписанная в треугольник
	7.4.5	Окружность, описанная около треугольника
	7.4.6	Вписанные и описанные окружности правильного многоугольника
7.5		<i>Измерение геометрических величин</i>
	7.5.1	Длина отрезка, длина ломаной, периметр многоугольника. Расстояние от точки до прямой
	7.5.2	Длина окружности
	7.5.3	Градусная мера угла, соответствие между величиной угла и длиной дуги окружности
	7.5.4	Площадь и её свойства. Площадь прямоугольника
	7.5.5	Площадь параллелограмма
	7.5.6	Площадь трапеции
	7.5.7	Площадь треугольника
	7.5.8	Площадь круга, площадь сектора
	7.5.9	Формулы объёма прямоугольного параллелепипеда, куба, шара
7.6		<i>Векторы на плоскости</i>
	7.6.1	Вектор, длина (модуль) вектора
	7.6.2	Равенство векторов
	7.6.3	Операции над векторами (сумма векторов, умножение вектора на число)
	7.6.4	Угол между векторами
	7.6.5	Коллинеарные векторы, разложение вектора по двум неколлинеарным векторам
	7.6.6	Координаты вектора
	7.6.7	Скалярное произведение векторов
8		Статистика и теория вероятностей
8.1		<i>Описательная статистика</i>
	8.1.1	Представление данных в виде таблиц, диаграмм, графиков
	8.1.2	Средние результатов измерений
8.2		<i>Вероятность</i>
	8.2.1	Частота события, вероятность
	8.2.2	Равновозможные события и подсчёт их вероятности
	8.2.3	Представление о геометрической вероятности
8.3		<i>Комбинаторика</i>
	8.3.1	Решение комбинаторных задач: перебор вариантов, комбинаторное правило умножения

Государственная итоговая аттестация по образовательным программам основного общего образования в форме основного государственного экзамена (ОГЭ)

**Спецификация
контрольных измерительных материалов для проведения
в 2016 году основного государственного экзамена
по МАТЕМАТИКЕ**

подготовлена Федеральным государственным бюджетным
научным учреждением
«ФЕДЕРАЛЬНЫЙ ИНСТИТУТ ПЕДАГОГИЧЕСКИХ ИЗМЕРЕНИЙ»

**Спецификация
контрольных измерительных материалов для проведения
в 2016 году основного государственного экзамена
по МАТЕМАТИКЕ**

1. Назначение КИМ ОГЭ – оценить уровень общеобразовательной подготовки по математике выпускников IX классов общеобразовательных организаций в целях государственной итоговой аттестации выпускников. Результаты экзамена могут быть использованы при приёме обучающихся в профильные классы средней школы.

ОГЭ проводится в соответствии с Федеральным законом Российской Федерации от 29.12.2012 № 273-ФЗ «Об образовании в Российской Федерации».

2. Документы, определяющие содержание КИМ

Содержание экзаменационной работы ОГЭ определяется на основе Федерального компонента государственного стандарта основного общего образования по математике (приказ Минобрнауки России от 05.03.2004 № 1089 «Об утверждении федерального компонента государственных образовательных стандартов начального, общего, основного общего и среднего (полного) общего образования»).

Кроме того, в экзаменационной работе нашли отражение концептуальные положения Федерального государственного образовательного стандарта основного общего образования (приказ Минобрнауки России от 17.12.2010 № 1897 «Об утверждении федерального государственного образовательного стандарта основного общего образования»). КИМ разработаны с учётом положения о том, что результатом освоения основной образовательной программы основного общего образования должна стать математическая компетентность выпускников, т.е. они должны: овладеть специфическими для математики знаниями и видами деятельности; научиться преобразованию знания и его применению в учебных и внеучебных ситуациях; сформировать качества, присущие математическому мышлению, а также овладеть математической терминологией, ключевыми понятиями, методами и приёмами.

3. Подходы к отбору содержания, разработке структуры КИМ

Структура КИМ ОГЭ отвечает цели построения системы дифференцированного обучения математике в современной школе. Дифференциация обучения направлена на решение двух задач: формирования у всех обучающихся базовой математической подготовки, составляющей функциональную основу общего образования, и одновременного создания условий, способствующих получению частью обучающихся подготовки повышенного уровня, достаточной для активного использования математики во время дальнейшего обучения, прежде всего при изучении её в средней школе на профильном уровне.

В целях обеспечения эффективности проверки освоения базовых понятий курса математики, умения применять математические знания и решать практико-ориентированные задачи, а также с учётом наличия в практике основной школы как отдельного преподавания предметов математического цикла, так и преподавания интегрированного курса математики в экзаменационной работе выделено три модуля: «Алгебра», «Геометрия», «Реальная математика».

4. Связь экзаменационной модели ОГЭ с КИМ ЕГЭ

Содержательное единство государственной итоговой аттестации за курс основной и средней школы обеспечивается общими подходами к разработке кодификаторов элементов содержания и требований к уровню подготовки выпускников по математике. Оба кодификатора строятся на основе раздела «Математика» Федерального компонента государственного стандарта общего образования.

5. Характеристика структуры и содержания КИМ

Работа состоит из трёх модулей: «Алгебра», «Геометрия», «Реальная математика». В модули «Алгебра» и «Геометрия» входит две части, соответствующие проверке на базовом и повышенном уровнях, в модуль «Реальная математика» – одна часть, соответствующая проверке на базовом уровне.

При проверке базовой математической компетентности обучающиеся должны продемонстрировать: владение основными алгоритмами; знание и понимание ключевых элементов содержания (математических понятий, их свойств, приёмов решения задач и проч.); умение пользоваться математической записью, применять знания к решению математических задач, не сводящихся к прямому применению алгоритма, а также применять математические знания в простейших практических ситуациях.

Части 2 модулей «Алгебра» и «Геометрия» направлены на проверку владения материалом на повышенном уровне. Их назначение – дифференцировать хорошо успевающих школьников по уровням подготовки, выявить наиболее подготовленную часть выпускников, составляющую потенциальный контингент профильных классов. Эти части содержат задания повышенного уровня сложности из различных разделов курса математики. Все задания требуют записи решений и ответа. Задания расположены по нарастанию трудности – от относительно простых до сложных, предполагающих свободное владение материалом курса и хороший уровень математической культуры.

Модуль «Алгебра» содержит 11 заданий: в *части 1* – 8 заданий; в *части 2* – 3 задания.

Модуль «Геометрия» содержит 8 заданий: в *части 1* – 5 заданий; в *части 2* – 3 задания.

Модуль «Реальная математика» содержит 7 заданий.

Всего в работе 26 заданий, из которых 20 заданий базового уровня, 4 задания повышенного уровня и 2 задания высокого уровня.

Таблица 1. Распределение заданий по частям работы

№	Часть работы	Тип заданий	Количество заданий	Максимальный первичный балл
1	Часть 1	С кратким ответом в виде одной цифры, которая соответствует номеру правильного ответа	4	4
2	Часть 1	С кратким ответом в виде числа, последовательности цифр	16	16
3	Часть 2	С развернутым ответом	6	12
	Итого		26	32

6. Распределение заданий КИМ по содержанию, проверяемым умениям и способам деятельности

Модуль «Алгебра».

Часть 1. В этой части экзаменационной работы содержатся задания по всем ключевым разделам курса алгебры основной школы, отражённым в кодификаторе элементов содержания (КЭС). Количество заданий по каждому из разделов кодификатора примерно соответствует удельному весу этого раздела в курсе. Распределение заданий по разделам содержания приведено в таблице 2.

Таблица 2. Распределение заданий части 1 по разделам содержания курса математики

Код по КЭС	Название раздела содержания	Количество заданий
1	Числа и вычисления	2
2	Алгебраические выражения	2
3	Уравнения и неравенства	2
4	Числовые последовательности	1
5	Функции и графики	1

Ориентировочная доля заданий части 1, относящихся к каждому из разделов кодификатора требований, представлена в таблице 3.

Таблица 3. Распределение заданий части 1 по проверяемым умениям и способам деятельности

Код по КТ	Название требования	Количество заданий ¹
1	Уметь выполнять вычисления и преобразования	2
2	Уметь выполнять преобразования алгебраических выражений	2
3	Уметь решать уравнения, неравенства и их системы	3
4	Уметь строить и читать графики функций	1

¹ Каждое задание может относиться более чем к одному разделу кодификатора требований.

Часть 2. Задания части 2 модуля направлены на проверку таких качеств математической подготовки выпускников, как:

- уверенное владение формально-оперативным алгебраическим аппаратом;
- умение решить комплексную задачу, включающую в себя знания из разных тем курса алгебры;
- умение математически грамотно и ясно записать решение, приводя при этом необходимые пояснения и обоснования;
- владение широким спектром приёмов и способов рассуждений.

Распределение заданий части 2 по разделам кодификаторов элементов содержания и требований к уровню подготовки выпускников представлено в таблицах 4 и 5.

Таблица 4. Распределение заданий части 2 по разделам содержания курса математики

Код по КЭС	Название раздела содержания	Количество заданий
2	Алгебраические выражения	1
3	Уравнения и неравенства	1
5	Функции и графики	1

Таблица 5. Распределение заданий части 2 по проверяемым умениям и способам деятельности

Код по КТ	Название требования	Количество заданий
2	Уметь выполнять преобразования алгебраических выражений	1
3	Уметь решать уравнения, неравенства и их системы	1
4	Уметь строить и читать графики функций	1

Модуль «Геометрия».

Часть 1. В этой части экзаменационной работы содержатся задания по всем ключевым разделам курса геометрии основной школы, отражённым в КЭС. Распределение заданий по разделам содержания приведено в таблице 6.

Таблица 6. Распределение заданий части 1 по разделам содержания курса математики

Код по КЭС	Название раздела содержания	Количество заданий
7.1	Геометрические фигуры и их свойства	1
7.2	Треугольник	1
7.3	Многоугольники	1
7.4	Окружность и круг	1
7.5	Измерение геометрических величин	1

Распределение заданий части 2 по разделам требований к уровню подготовки выпускников представлено в таблице 7.

Таблица 7. Распределение заданий части 1 по проверяемым умениям и способам деятельности

Код по КТ	Название требования	Количество заданий
5	Уметь выполнять действия с геометрическими фигурами, координатами и векторами	4
7.8	Проводить доказательные рассуждения при решении задач, оценивать логическую правильность рассуждений, распознавать ошибочные заключения	1

Часть 2. Задания части 2 экзаменационной работы направлены на проверку таких качеств геометрической подготовки выпускников, как:

- умение решить планиметрическую задачу, применяя различные теоретические знания курса геометрии;
- умение математически грамотно и ясно записать решение, приводя при этом необходимые пояснения и обоснования;
- владение широким спектром приёмов и способов рассуждений.

Распределение заданий части 2 по разделам кодификаторов элементов содержания и требований к уровню подготовки выпускников представлено в таблицах 8 и 9.

Таблица 8. Распределение заданий части 2 по разделам содержания курса математики

Код по КЭС	Название раздела содержания	Количество заданий
7	Геометрия	3
9	Элементы теории множеств, логики	1

Таблица 9. Распределение заданий части 2 по проверяемым умениям и способам деятельности

Код по КТ	Название требования	Количество заданий
7.8	Проводить доказательные рассуждения при решении задач, оценивать логическую правильность рассуждений, распознавать ошибочные заключения	1
5	Уметь выполнять действия с геометрическими фигурами, координатами и векторами	2

Модуль «Реальная математика».

В этом модуле экзаменационной работы содержится 8 заданий, отнесённых в соответствии с КТ к категории «*Уметь использовать приобретенные знания и умения в практической деятельности и повседневной жизни, уметь строить и исследовать простейшие математические модели*». Это задания, формулировка которых содержит практический контекст, знакомый обучающимся или близкий их жизненному опыту. Из них одно задание (17) проверяет умение применять геометрические знания, а остальные задания предназначены для провер-

ки знаний из разделов: алгебра, теория вероятностей и статистика. Ориентировочное распределение заданий по разделам кодификатора элементов содержания и требований представлены в таблицах 10 и 11 соответственно.

Таблица 10. Распределение заданий части 1 по разделам содержания курса математики

Код по КЭС	Название раздела содержания	Количество заданий ²
8	Статистика и теория вероятностей	3
5	Функции	1
1	Числа и вычисления	1
2	Алгебраические выражения	1
7	Геометрия	1
9	Элементы теории множеств, логики	1

Таблица 11. Распределение заданий по проверяемым умениям и способам деятельности

Код по КТ	Название требования	Количество заданий ³
7.1	Решать несложные практические расчётные задачи; решать задачи, связанные с отношением, пропорциональностью величин, дробями, процентами; пользоваться оценкой и прикидкой при практических расчётах; интерпретировать результаты решения задач с учётом ограничений, связанных с реальными свойствами рассматриваемых объектов	1
7.2	Пользоваться основными единицами длины, массы, времени, скорости, площади, объёма; выражать более крупные единицы через более мелкие и наоборот. Осуществлять практические расчёты по формулам, составлять несложные формулы зависимостей между величинами	2
7.4	Описывать с помощью функций различные реальные зависимости между величинами; интерпретировать графики реальных зависимостей	1
7.5	Описывать реальные ситуации на языке геометрии, исследовать построенные модели с использованием геометрических понятий и теорем, решать практические задачи, связанные с нахождением геометрических величин	1
6.1, 7.6	Анализировать реальные числовые данные, представленные в таблицах, на диаграммах, графиках	3
7.7	Решать практические задачи, требующие систематического перебора вариантов; сравнивать шансы наступления случайных событий, оценивать вероятность случайного события, сопоставлять и исследовать модели реальной ситуации с использованием аппарата теории вероятностей и статистики	1
7.8	Проводить доказательные рассуждения при решении задач, оценивать логическую правильность рассуждений, распознавать ошибочные заключения	1

² Каждое задание может относиться более чем к одному разделу кодификатора элементов содержания.

³ Каждое задание может относиться более чем к одному разделу кодификатора требований.

7. Распределение заданий КИМ по уровням сложности

В табл. 12 приведено распределение заданий КИМ по уровням сложности.

Таблица 12. Распределение заданий КИМ по уровням сложности

Уровень сложности заданий	Количество заданий	Максимальный первичный балл
Базовый	20	20
Повышенный	4	8
Высокий	2	4
Итого	26	32

Часть 1 состоит из заданий базового уровня сложности (Б). В экзаменационной работе задания по уровню сложности распределяются следующим образом: 8 заданий с предполагаемым процентом выполнения 80–90, 8 заданий с предполагаемым процентом выполнения 70–80 и 4 задания с предполагаемым процентом выполнения 60–70.

Части 2 модулей «Алгебра» и «Геометрия» состоят из заданий повышенного (П) и высокого (В) уровней сложности. Планируемые проценты выполнения заданий частей 2 приведены в таблице 13.

Таблица 13. Планируемый процент выполнения заданий частей 2

Модуль	Алгебра			Геометрия		
	21	22	23	24	25	26
Номер задания						
Уровень сложности	П	П	В	П	П	В
Ожидаемый процент выполнения	30–50	15–30	3–15	30–50	15–30	3–15

8. Продолжительность ОГЭ по математике

На выполнение экзаменационной работы отводится 235 минут.

9. Дополнительные материалы и оборудование

Участникам разрешается использовать справочные материалы, содержащие основные формулы курса математики, выдаваемые вместе с работой. Разрешается использовать линейку. Калькуляторы на экзамене не используются.

10. Система оценивания выполнения отдельных заданий и экзаменационной работы в целом

Для оценивания результатов выполнения работ выпускниками используется общий балл. В таблице 14 приводится система формирования общего балла.

Максимальный балл за работу в целом – 32.

Задания, оцениваемые 1 баллом, считаются выполненными верно, если указан номер верного ответа (в заданиях с выбором ответа), или вписан верный ответ (в заданиях с кратким ответом), или правильно соотнесены объекты двух множеств и записана соответствующая последовательность цифр (в заданиях на установление соответствия).

Таблица 14. Система формирования общего балла

Модуль «Алгебра»						
Максимальное количество баллов за одно задание				Максимальное количество баллов		
Часть 1	Часть 2			За часть 1	За часть 2	За модуль в целом
№ 1–8	№ 21	№ 22	№ 23			
1	2	2	2	8	6	14
Модуль «Геометрия»						
Максимальное количество баллов за одно задание				Максимальное количество баллов		
Часть 1	Часть 2			За часть 1	За часть 2	За модуль в целом
№ 9–13	№ 24	№ 25	№ 26			
1	2	2	2	5	6	11
Модуль «Реальная математика»						
Максимальное количество баллов за одно задание				Максимальное количество баллов за модуль в целом		
Часть 1, № 14–20				7		
1				7		

Задания, оцениваемые в 2 балла, считаются выполненными верно, если обучающийся выбрал правильный путь решения, из письменной записи решения понятен ход его рассуждений, получен верный ответ. В этом случае ему выставляется полный балл, соответствующий данному заданию. Если в решении допущена ошибка, не имеющая принципиального характера и не влияющая на общую правильность хода решения, то участнику выставляется 1 балл.

В соответствии с Порядком проведения государственной итоговой аттестации по образовательным программам основного общего образования (приказ Минобрнауки России от 25.12.2013 № 1394 зарегистрирован Минюстом России 03.02.2014 № 31206)

«48. Экзаменационные работы проверяются двумя экспертами. По результатам проверки эксперты независимо друг от друга выставляют баллы за каждый ответ на задания экзаменационной работы... В случае существенного расхождения в баллах, выставленных двумя экспертами, назначается третья проверка. Существенное расхождение в баллах определено в критериях оценивания по соответствующему учебному предмету.

Третий эксперт назначается председателем предметной комиссии из числа экспертов, ранее не проверявших экзаменационную работу.

Третьему эксперту предоставляется информация о баллах, выставленных экспертами, ранее проверявшими экзаменационную работу обучающегося. Баллы, выставленные третьим экспертом, являются окончательными».

1. Работа направляется на третью проверку, если расхождение в баллах, выставленных двумя экспертами за выполнение любого из заданий, составляет **2 балла**.

В этом случае третий эксперт проверяет только то задание, которое было оценено двумя экспертами со столь существенным расхождением.

2. Работа участника ОГЭ направляется на третью проверку при наличии расхождений **в двух и более заданиях**.

В этом случае третий эксперт перепроверяет задания 21–26 с развёрнутым ответом.

Об освоении выпускником Федерального компонента образовательного стандарта в предметной области «Математика» свидетельствует преодоление им минимального порогового результата выполнения экзаменационной работы. Устанавливается следующий рекомендуемый *минимальный критерий: 8 баллов, набранные по всей работе, из них – не менее 3 баллов по модулю «Алгебра», не менее 2 баллов по модулю «Геометрия» и не менее 2 баллов по модулю «Реальная математика»*. Только выполнение всех условий минимального критерия даёт выпускнику право на получение положительной экзаменационной отметки по пятибалльной шкале по математике или по алгебре и геометрии (в соответствии с учебным планом образовательной организации).

12. Изменения в КИМ 2016 года в сравнении с 2015 годом

Структура и содержание экзаменационной работы не изменились. Скорректирована система оценивания заданий 22, 23, 25, 26 (максимальный балл за выполнение каждого из них – 2). Максимальный первичный балл за выполнение всей работы снижен с 38 до 32.

Приложение

**Обобщенный план варианта КИМ 2016 года
для ГИА выпускников IX классов
по МАТЕМАТИКЕ**

Уровни сложности заданий: Б – базовый, П – повышенный, В – высокий.

№ п/п	Основные проверяемые требования к математической подготовке	Коды разделов элементов содержания	Коды разделов элементов требований	Уровень сложности	Максимальный балл за выполнение задания
Часть 1					
Модуль «Алгебра»					
1	Уметь выполнять вычисления и преобразования	1	1	Б	1
2	Уметь выполнять вычисления и преобразования	1, 6	1	Б	1
3	Уметь выполнять вычисления и преобразования, уметь выполнять преобразования алгебраических выражений	1, 2	1, 2	Б	1
4	Уметь решать уравнения, неравенства и их системы	3	3	Б	1
5	Уметь строить и читать графики функций	5	4	Б	1
6	Уметь строить и читать графики функций	4	4	Б	1
7	Уметь выполнять преобразования алгебраических выражений	2	2	Б	1
8	Уметь решать уравнения, неравенства и их системы	3, 6	3	Б	1
Модуль «Геометрия»					
9	Уметь выполнять действия с геометрическими фигурами, координатами и векторами	7	5	Б	1
10	Уметь выполнять действия с геометрическими фигурами, координатами и векторами	7	5	Б	1
11	Уметь выполнять действия с геометрическими фигурами, координатами и векторами	7	5	Б	1
12	Уметь выполнять действия с геометрическими фигурами, координатами и векторами	7	5	Б	1
13	Проводить доказательные рассуждения при решении задач, оценивать логическую правильность рассуждений, распознавать ошибочные заключения	7	7.8	Б	1
Модуль «Реальная математика»					
14	Пользоваться основными единицами длины, массы, времени, скорости, площади, объёма; выражать более крупные единицы через более мелкие и наоборот.	1, 8	7	Б	1
15	Описывать с помощью функций различные реальные зависимости между величинами; интерпретировать графики реальных зависимостей	5	7	Б	1

16	Решать несложные практические расчетные задачи; решать задачи, связанные с отношением, пропорциональностью величин, дробями, процентами; пользоваться оценкой и прикидкой при практических расчетах; интерпретировать результаты решения задач с учётом ограничений, связанных с реальными свойствами рассматриваемых объектов	1, 3	7	Б	1
17	Описывать реальные ситуации на языке геометрии, исследовать построенные модели с использованием геометрических понятий и теорем, решать практические задачи, связанные с нахождением геометрических величин	7	7	Б	1
18	Анализировать реальные числовые данные, представленные в таблицах, на диаграммах, графиках	8, 9	7	Б	1
19	Решать практические задачи, требующие систематического перебора вариантов; сравнивать шансы наступления случайных событий, оценивать вероятности случайного события, сопоставлять и исследовать модели реальной ситуацией с использованием аппарата вероятности и статистики	8	7	Б	1
20	Осуществлять практические расчеты по формулам, составлять несложные формулы, выражающие зависимости между величинами	2	7	Б	1
Часть 2					
Модуль «Алгебра»					
21	Уметь выполнять преобразования алгебраических выражений, решать уравнения, неравенства и их системы, строить и читать графики функций	2, 3, 5	2	П	2
22	Уметь выполнять преобразования алгебраических выражений, решать уравнения, неравенства и их системы, строить и читать графики функций, строить и исследовать простейшие математические модели	2, 3, 4, 5, 6	3, 7	П	2
23	Уметь выполнять преобразования алгебраических выражений, решать уравнения, неравенства и их системы, строить и читать графики функций, строить и исследовать простейшие математические модели	2, 3, 4, 5, 6	4, 2	В	2
Модуль «Геометрия»					
24	Уметь выполнять действия с геометрическими фигурами, координатами и векторами	7	5	П	2
25	Проводить доказательные рассуждения при решении задач, оценивать логическую правильность рассуждений, распознавать ошибочные заключения	7, 9	7	П	2
26	Уметь выполнять действия с геометрическими фигурами, координатами и векторами	7	5	В	2
<p>Всего заданий – 26; из них по типу заданий: заданий с кратким ответом – 20, заданий с развернутым ответом – 6; по уровню сложности: Б – 20; П – 4; В – 2. Максимальный первичный балл за работу – 32. Общее время выполнения работы – 235 минут.</p>					